


≠

E SER OUVIDO



PROCESSO SELETIVO 2018 - CADERNO DE QUESTÕES

LEIA ATENTAMENTE AS SEGUINTE INSTRUÇÕES

01. Você está recebendo o material listado abaixo:

- A. Este caderno com o enunciado das questões relativas à **prova de língua portuguesa (redação)**, à **prova de matemática (objetiva)**, à **prova de interpretação de textos (objetiva)** e à prova de **conhecimentos gerais (objetiva)**;
- B. Uma **FOLHA OFICIAL** pautada, destinada à **prova de língua portuguesa (redação)**, que está **etiquetada** com seus dados;
- C. 01 (um) **CARTÃO-RESPOSTA**, destinado às respostas da **prova de matemática (objetiva, questões 1 a 15)**, da **prova de interpretação de textos (objetiva, questões 16 a 30)** e da **prova de conhecimentos gerais (objetiva, questões 31 a 45)**.

02. Verifique se este material está completo e se seus dados no **CARTÃO-RESPOSTA** e na **FOLHA OFICIAL** estão corretos. Caso contrário, notifique **IMEDIATAMENTE** um dos responsáveis pela sala.

03. Não é permitido utilizar, durante a realização da prova, qualquer tipo de equipamento eletrônico, incluindo celulares e smartphones, ou outras fontes de consulta de qualquer espécie.

04. A devolução do **CADERNO DE QUESTÕES**, no final da prova, é **obrigatória**.

05. **O TEMPO TOTAL DE DURAÇÃO DO EXAME É DE 03h40 (TRÊS HORAS E QUARENTA MINUTOS)**.

BOA SORTE!

COMISSÃO ORGANIZADORA PROCESSO SELETIVO 2018



PROCESSO SELETIVO 2018 PROVA DE REDAÇÃO

ORIENTAÇÕES

- Analise os dois temas propostos abaixo.
- Escolha apenas um dos temas sugeridos e indique, na folha oficial, o tema escolhido para sua redação.
- A redação deverá ser escrita à tinta e de forma legível.
- A redação deve ter no mínimo 20 linhas e no máximo 30 linhas, sob pena de desclassificação do candidato.
- ATENÇÃO: **você deve indicar o tema escolhido e TAMBÉM criar um título para sua redação.**

TEMA 1

Como os direitos humanos contribuem para a promoção da Cidadania?

O Brasil, com suas acentuadas desigualdades sociais e econômicas, promove diversificadas ações destinadas à promoção e à defesa dos direitos humanos. A discussão dos direitos humanos e as ações técnicas e políticas relacionadas a esse tema por vezes têm mobilizado a mídia nacional e, conseqüentemente, elevado a consciência da sociedade brasileira sobre assuntos que são extremamente importantes para a promoção da cidadania e para o respeito aos direitos humanos. A educação em direitos humanos é uma parte integral do direito à educação e está ganhando cada vez mais reconhecimento como um direito humano em si. O conhecimento sobre os direitos e liberdades é considerado uma ferramenta fundamental para garantir respeito pelos direitos de todos. Apesar desse trabalho de promoção dos direitos humanos:

- ainda não está clara a compreensão da universalidade e indivisibilidade dos direitos humanos: civis, políticos, sociais, econômicos e culturais.
- ainda existe um número muito alto de pessoas que continuam a encontrar grandes dificuldades no exercício de sua cidadania e de seus direitos fundamentais.

Fonte: < <http://www.unesco.org/new/pt/brasil/social-and-human-sciences/human-rights/> >

PROPOSTA: Escreva uma dissertação comentando essas questões.

TEMA 2

Quais as implicações para o futuro do Brasil de uma população sem saúde?

O Direito à saúde não se restringe apenas a poder ser atendido no hospital ou em unidades básicas. Embora o acesso a serviços tenha relevância, como direito fundamental, o direito à saúde implica também em garantia ampla de qualidade de vida, em associação a outros direitos básicos, como educação, saneamento básico, atividades culturais e segurança.

“A criação do SUS está diretamente relacionada á tomada de responsabilidade por parte do Estado. A ideia do SUS é maior do que simplesmente disponibilizar postos de saúde e hospitais para que as pessoas possam acessar quando precisem; a proposta é que seja possível atuar antes disso, através dos agentes de saúde que visitam frequentemente as famílias para se antecipar os problemas e conhecer a realidade de cada família, encaminhando as pessoas para os equipamentos públicos de saúde quando necessário” (Guia de Direitos).

Fonte: < <https://pensesus.fiocruz.br/direito-a-saude/> >

PROPOSTA: Elabore uma dissertação com sua opinião sobre o assunto.



PROCESSO SELETIVO 2018

PROVA OBJETIVA

INSTRUÇÕES GERAIS

- Todas as questões são objetivas e possuem apenas uma alternativa a ser assinalada.
- As respostas devem ser preenchidas no CARTÃO-RESPOSTA, conforme instruções apresentadas no cartão, marcando-se apenas a alternativa escolhida.
- A marcação de 02 (duas) ou mais respostas na mesma questão implicará a anulação da questão.

PARTE 1 - MATEMÁTICA

Questão 1

Uma embalagem de peixe congelado pesa 2,2 kg. Após seu descongelamento e retirada total da água, o produto passa a pesar 1,54 kg. Pode-se dizer que a perda de peso nesse processo foi de:

- a) 30%
- b) 35%
- c) 40%
- d) 20%
- e) 25%

Questão 2

Em uma pesquisa sobre a leitura das revistas "VIDA" e "SAÚDE", 200 pessoas foram entrevistadas e o resultado obtido foi o seguinte:

100 pessoas liam VIDA;

70 pessoas liam apenas a revista SAÚDE;

50 pessoas liam as duas revistas.

O número de pessoas que não liam nenhuma dessas revistas é:

- a) 30
- b) 80
- c) 85
- d) 75
- e) 20

Questão 3

Uma caixa-d'água de formato cúbico tem capacidade para 1000 litros. Qual é a capacidade de outra caixa, de mesmo formato, cujas medidas das arestas são 30% maiores?

- a) 2.260 litros
- b) 2.340 litros
- c) 2.630 litros
- d) 2.197 litros
- e) 2.200 litros

Questão 4

Uma foto, com 3 cm de largura e 4 cm de altura, foi ampliada de forma a ter 10,5 cm de largura. Para se manter a proporção, a altura da foto ampliada será de:

- a) 13 cm
- b) 15 cm
- c) 14 cm
- d) 11,5 cm
- e) 12,5 cm

Questão 5

Um automóvel já percorreu $\frac{6}{8}$ da distância entre a cidade A e a cidade B. Sabendo-se que ainda restam 120 km para percorrer, determine a distância entre as duas cidades.

- a) 480 Km
- b) 500 Km
- c) 520 Km
- d) 380 Km
- e) 440 Km

Questão 6

O consumo de energia elétrica para uma residência no decorrer dos meses é dado por $C = t^2 - 6t + 168$, em que o consumo C é dado em kWh, e ao tempo associa-se $t = 1$ a janeiro, $t = 2$ a fevereiro, e assim sucessivamente. O(s) mês(es) em que o consumo é de 160 kWh é (são):

- a) Em abril e maio
- b) Em fevereiro e abril
- c) Em maio e junho
- d) Somente em fevereiro
- e) Somente em março

Questão 7

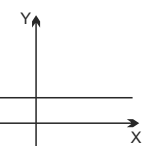
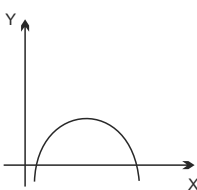
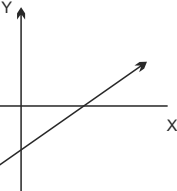
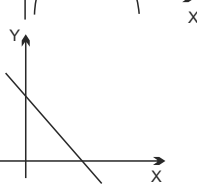
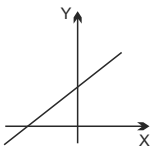
Qual das alternativas abaixo representa uma propriedade logarítmica sempre válida?

- a) $\log_{m.a} = m \cdot \log_a$
- b) $\log_{(a \cdot b)} = \log_a - \log_b$
- c) $\log a^m = m \cdot \log_a$
- d) $\log_{(a \cdot b)} = \log_a \cdot \log_b$
- e) $\log_{(a + b)} = \log_a + \log_b$

Rascunho

Questão 8

A função $y = -x + 8$ é chamada função polinomial do 1º grau, e sua representação gráfica é semelhante a:

- a) 
- b) 
- c) 
- d) 
- e) 

Questão 9

A hipotenusa de um triângulo retângulo mede 3 metros e um de seus catetos é o triplo do outro. Então os comprimentos dos catetos são:

- a) $\frac{3}{\sqrt{10}}$ e $\frac{9}{3\sqrt{10}}$
- b) $\frac{3}{2}$ e $\frac{9}{6}$
- c) $\frac{2}{3}$ e $\frac{2}{9}$
- d) $\frac{3}{2}$ e $\frac{9}{2}$
- e) $\frac{3}{\sqrt{10}}$ e $\frac{9}{\sqrt{10}}$

Questão 10

Sejam A e B os ângulos agudos de um triângulo retângulo. Se $\cos A = \cos B$ e se a medida da hipotenusa é 4 cm, a área desse triângulo em cm^2 é:

- a) 8
- b) 12
- c) 10
- d) 2
- e) 4

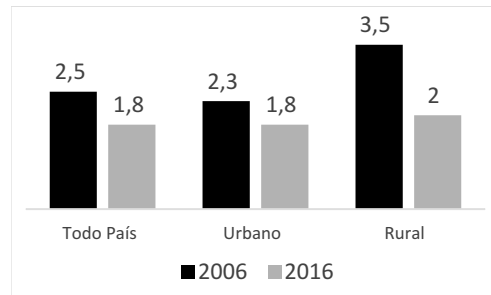
Questão 11

Uma reserva florestal possui atualmente 10.000 árvores. Em quantos anos a quantidade de árvores desta reserva estará reduzida à oitava parte do número atual, considerando-se que a equação que representa essa redução, em função da passagem do tempo, é $y = 10000 \cdot 2^{-t}$, sendo que "t" representa o número de anos transcorridos até que a redução à oitava parte do número atual de árvores, representada por "y", fosse atingida?

- a) 3
- b) 4
- c) 5
- d) 1
- e) 2

Questão 12

O gráfico abaixo mostra as taxas de fecundidade da população de um determinado país, nos anos de 2006 e 2016, divididas em três categorias: em todo o país, apenas população urbana e apenas população rural. De acordo com os dados do gráfico, no período citado, a taxa de fecundidade em todo o país decresceu:



- a) 18%
- b) 20%
- c) 33%
- d) 28%
- e) 15%

Questão 13

Um revendedor importou 25 frascos de perfume, pagando um total de R\$ 5.000,00. Gastou ainda mais 10% desse valor em taxas e impostos. Para obter um lucro de 50% sobre o valor gasto, ele deverá vender cada frasco de perfume, em reais, por:

- a) 300
- b) 280
- c) 330
- d) 440
- e) 230

Questão 14

Uma equipe de operários, trabalhando 6 horas por dia, realizou uma obra em 15 dias. Se o número de horas de serviço diário for reduzido para 5 horas, em quantos dias essa equipe fará o mesmo trabalho?

- a) 2 dias
- b) 18 dias
- c) 12 dias
- d) 14 dias
- e) 16 dias

Questão 15

Certo trabalho foi executado em três etapas. A primeira etapa consumiu $\frac{1}{3}$ do tempo total do trabalho. A segunda etapa teve duração de $\frac{2}{5}$ do tempo total restante para a conclusão das duas últimas etapas. Qual a fração que representa o tempo correspondente à duração da terceira etapa em relação ao tempo total de trabalho?

- a) $\frac{2}{3}$
- b) $\frac{1}{5}$
- c) $\frac{4}{5}$
- d) $\frac{3}{5}$
- e) $\frac{2}{5}$



PROCESSO SELETIVO 2018

PROVA OBJETIVA

PARTE 2 - INTERPRETAÇÃO DE TEXTOS

Todas as questões desta parte estão relacionadas a textos. Para respondê-las, leia-os atentamente.

As questões 16 a 18 estão relacionadas a fragmento inicial da obra “Memórias de um sargento de milícias” de Manuel Antônio de Almeida, p. 13, disponível em <http://bd.camara.gov.br>.

Era no tempo do rei.

Uma das quatro esquinas que formam as ruas do Ouvidor e da Quitanda, cortando-se mutuamente, chamava-se nesse tempo — O canto dos meirinhos —; e bem lhe assentava o nome, porque era aí o lugar de encontro favorito de todos os indivíduos dessa classe (que gozava então de não pequena consideração). Os meirinhos de hoje não são mais do que a sombra caricata dos meirinhos do tempo do rei; esses eram gente temível e temida, respeitável e respeitada; formavam um dos extremos da formidável cadeia judiciária que envolvia todo o Rio de Janeiro no tempo em que a demanda era entre nós um elemento de vida: o extremo oposto eram os desembargadores. Ora, os extremos se tocam, e estes, tocando-se, fechavam o círculo dentro do qual se passavam os terríveis combates das citações, provarás, razões principais e finais, e todos esses trejeitos judiciais que se chamava o processo.

Questão 16

Pode-se concluir acerca das ideias contidas no texto que:

- a) O texto faz uma caricatura dos meirinhos.
- b) Os meirinhos constituíam a mais alta classe da carreira jurídica.
- c) O texto faz menção à carreira judiciária que tinha, como extremos, os meirinhos e os desembargadores.
- d) O texto faz um retrato da Cidade do Rio de Janeiro, no tempo do império.
- e) O canto dos meirinhos era o espaço favorito para encontros, no Rio de Janeiro, à época do império.

Questão 17

Em relação ao termo meirinho pode-se afirmar que:

- a) É sinônimo de servidor público.
- b) É equivalente, em nossos dias, à designação de oficial de justiça.
- c) É uma gíria específica de uma determinada classe social.
- d) É um neologismo que designa os ocupantes da carreira jurídica.
- e) É um estrangeirismo pouco utilizado nos dias atuais.

Questão 18

A respeito do sufixo “vel”, que aparece nas palavras “temível” e “respeitável”, no texto, pode-se afirmar que:

- a) forma adjetivo relativo à capacidade.
- b) forma advérbio de modo.
- c) forma substantivo abstrato.
- d) forma substantivo relativo à profissão.
- e) forma adjetivo relativo à autoridade.

As questões 19 a 21 estão relacionadas a fragmento do texto “Um brinde ao vinho”, produzido por Abril Branded Content, publicado na Revista Veja, ed. 2539, de 19/07/2017, à p. 22.

Se o álcool pode causar 60 tipos de doenças, o que faz o vinho ser considerado saudável? Isso se deve principalmente aos diversos antioxidantes encontrados na bebida. Entre eles o resveratrol, presente na casca da uva tinta, além de minerais e outras substâncias que estão na polpa. O resveratrol atua, sobretudo, nos vasos sanguíneos, evitando a formação de placas de gordura e flexibilizando as artérias, o que ajuda a prevenir ataques cardíacos e AVCs.

Ainda não foi comprovado que o vinho garante a juventude por mais tempo, mas há boas evidências de que reduz o risco do desenvolvimento de demências, como a doença de Alzheimer. Também ajuda as mulheres na menopausa, prevenindo o enfraquecimento dos ossos e a osteoporose.

Para que a ação das substâncias boas não seja ofuscada pelo efeito nocivo do álcool, o consumo deve ser moderado. Isso significa uma taça para mulheres e duas para homens, por dia. A recomendação não vale se a pessoa tiver doenças no fígado ou no estômago e altas taxas de triglicérides.

Questão 19

Sobre as ideias contidas no texto pode-se afirmar:

- a) Todas as pessoas podem se beneficiar da moderada ingestão de vinho.
- b) As bebidas alcoólicas devem ser evitadas para se preservar a boa saúde.
- c) Pesquisas comprovaram que o vinho reduz o desenvolvimento de demências.
- d) As pessoas que tiveram AVCs devem evitar ingerir vinhos.
- e) Ingerido na medida certa, o vinho pode trazer diversos benefícios à saúde.



PROCESSO SELETIVO 2018

PROVA OBJETIVA

Questão 20

Ainda sobre as ideias contidas no texto, pode-se afirmar que:

- a) O resveratrol é uma substância encontrada na polpa da uva.
- b) A doença de Alzheimer é um tipo de demência relacionada ao envelhecimento.
- c) A doença de Alzheimer caracteriza-se pelo enfraquecimento dos ossos.
- d) Em mulheres na menopausa, o vinho pode provocar a osteoporose.
- e) O resveratrol é um antioxidante que reduz as taxas de triglicérides no sangue.

Questão 21

O prefixo “anti”, presente na palavra “antioxidante”, significa:

- a) Oposição
- b) Falta
- c) Carência
- d) Anterioridade
- e) Reação

As questões 22 a 24 estão relacionadas ao fragmento da obra “O Alienista”, de Machado de Assis, disponível em www.dominiopublico.gov.br, às págs. 2 e 3.

—A caridade, Sr. Soares, entra decerto no meu procedimento, mas entra como tempero, como o sal das coisas, que é assim que interpreto o dito de São Paulo aos Coríntios: “Se eu conhecer quanto se pode saber, e não tiver caridade, não sou nada”. O principal nesta minha obra da Casa Verde é estudar profundamente a loucura, os seus diversos graus, classificar-lhe os casos, descobrir enfim a causa do fenômeno e o remédio universal. Este é o mistério do meu coração. Creio que com isto presto um bom serviço à humanidade.

Questão 22

Sobre as ideias contidas no texto, pode-se concluir que:

- a) O autor personagem se reconhece demente.
- b) O autor personagem se reconhece religioso.
- c) O autor personagem se reconhece misterioso.
- d) O autor personagem se reconhece extremamente caridoso.
- e) O autor personagem se reconhece pesquisador.

Questão 23

Acerca do trecho entre aspas, destacado no texto, pode-se dizer que:

- a) É o discurso do autor personagem que pratica a caridade.
- b) É o discurso do autor personagem que se desculpa por estudar a loucura.
- c) É um argumento utilizado pelo autor personagem para justificar as pesquisas realizadas na Casa Verde.
- d) É uma citação bíblica que explica o que o apóstolo São Paulo falou aos Coríntios.
- e) É uma citação bíblica que retifica o discurso do próprio autor.

Questão 24

Pode-se dizer das palavras tempero e sal destacadas no texto:

- a) Ambas têm o mesmo radical.
- b) Existe uma relação antonímica entre elas.
- c) Ambas estão empregadas com sentido denotativo.
- d) Ambas estão empregadas com sentido metafórico.
- e) Existe uma relação sinonímica entre elas.

As questões 25 a 27 estão relacionadas ao Soneto de Fidelidade, de Vinícius de Moraes, disponível em <http://www.significados.com.br>.

*De tudo, ao meu amor serei atento
Antes, e com tal zelo, e sempre, e tanto
Que mesmo em face do maior encanto
Dele se encante mais meu pensamento*

*Quero vivê-lo em cada vão momento
E em seu louvor hei de espalhar meu canto
E rir meu riso e derramar meu pranto
Ao seu pesar ou seu contentamento*

*E assim quando mais tarde me procure
Quem sabe a morte, angústia de quem vive
Quem sabe a solidão, fim de quem ama*

*Eu possa me dizer do amor (que tive):
Que não seja imortal, posto que é chama
Mas que seja infinito enquanto dure.*

Questão 25

Sobre as ideias contidas no texto, pode-se dizer que o “eu lírico”:

- a) teme perder a sua amada.
- b) acredita que, tal como a vida, o amor é finito.
- c) nunca viveu um grande amor.
- d) jura amor eterno à sua amada.
- e) mostra-se angustiado pelo fim de um amor.



PROCESSO SELETIVO 2018

PROVA OBJETIVA

Questão 26

A palavra que pode substituir a expressão posto que, destacada no texto, é:

- a) Logo
- b) Embora
- c) Porque
- d) Contanto
- e) Todavia

Questão 27

O conector enquanto, destacado no texto, introduz ideia de:

- a) Fim
- b) Lugar
- c) Intensidade
- d) Modo
- e) Tempo

As questões 28 a 30 estão relacionadas ao fragmento do texto “O copo meio cheio da automação”, publicado na Revista Exame, ed. 1143, de 02 de agosto de 2017, à p. 22.

As máquinas inteligentes não vão apenas destruir empregos. É verdade que muitas tarefas feitas por mãos humanas serão executadas por robôs no futuro. Com isso, vão desaparecer postos de trabalho na linha de montagem e na manutenção das máquinas, por exemplo. Mas essa é só metade da história. Um estudo feito pela consultoria de gestão BCG estima que 400 000 postos de trabalho serão abertos nas indústrias alemãs, reconhecidas pelo alto desenvolvimento tecnológico, até 2025. Serão funções como coordenadores de robôs ou cientistas de dados. Os novos empregos deverão compensar uma perda de mão de obra estimada em 170 000 postos, que ficarão obsoletos e deverão ser ocupados por autômatos. Eis aí um bom exemplo de copo meio cheio.

Questão 28

Acerca das ideias contidas no texto, pode-se dizer que:

- a) A automação industrial apresenta aspectos positivos e negativos.
- b) Até 2025, haverá 170 000 desempregados, nas indústrias alemãs.
- c) A automação, na linha de montagem e manutenção das máquinas, deve ser repensada.
- d) Os robôs só provocam o desemprego.
- e) Futuramente, não haverá espaço para o trabalho humano, nas indústrias.

Questão 29

O termo obsoletos, destacado no texto, significa:

- a) Automatizados
- b) Vagos
- c) Desperdiçados
- d) Ultrapassados
- e) Fechados

Questão 30

Acerca dos efeitos de sentido da expressão copo meio cheio, constituinte do título do texto, pode-se dizer:

- a) Faz referência ao desemprego provocado pela automação industrial.
- b) Indica que os efeitos da automação ainda não são percebidos, em toda sua plenitude.
- c) Mostra o ponto de vista positivo sob o qual o autor focaliza a automação industrial.
- d) Poderia ser substituída pela expressão copo meio vazio.
- e) Faz referência aos efeitos negativos da automatização industrial, apresentados no texto.



PROCESSO SELETIVO 2018

PROVA OBJETIVA

PARTE 3 - CONHECIMENTOS GERAIS

HISTÓRIA

Questão 31

De muitas transformações que marcaram os últimos séculos do período medieval na Europa ocidental é correto afirmar que houve:

- a) Aumento do poder da Igreja Católica marcado principalmente pelo sucesso na contenção do surgimento de novas igrejas cristãs independentes do poder papal.
- b) Significativo aumento das práticas de comércio, ocasionando, entre outras coisas, o crescimento das cidades.
- c) Aumento das monarquias feudais fortalecendo a nobreza e enfraquecendo a burguesia.
- d) Aumento do poder feudal, principalmente depois da Guerra dos Cem Anos.
- e) Processo de deterioração das grandes cidades em face da crise comercial causada pelas Cruzadas.

Questão 32

Sobre os fatores que levaram à Primeira Guerra Mundial, leia:

I. O processo de partilha das terras da África e Ásia ocorrido no final do século XIX foi um dos fatores responsáveis por aumentar o desentendimento entre nações europeias.

II. O surgimento de movimentos nacionalistas, no início do século XX, aguçou os interesses expansionistas de várias nações europeias.

III. A transformação da China em grande potência mundial, no final do século XIX, acirrou os embates entre nações asiáticas e europeias.

Sobre as afirmações anteriores:

- a) Somente a I e II são corretas.
- b) Somente a I e III são corretas.
- c) Somente a II e III são corretas.
- d) Todas são corretas.
- e) Todas são incorretas.

Questão 33

Sobre a Constituição Brasileira de 1824, assinale a afirmativa incorreta:

- a) Foi marcada pela concentração de poderes nas mãos do monarca com a criação do poder moderador.
- b) Estabeleceu um sistema eleitoral baseado no voto censitário, em que o direito de votar era condicionado à comprovação de renda.
- c) Estabeleceu o catolicismo como religião oficial do Brasil.
- d) Foi a primeira constituição republicana brasileira.
- e) Foi uma constituição outorgada por D. Pedro I.

Questão 34

O governo de Juscelino Kubitschek (1956-1961) foi marcado, entre outras coisas, por:

- a) Desestimular a cultura e a educação em favor da política de crescimento econômico moderado.
- b) Estimular o crescimento do capital nacional criando barreira a empresas multinacionais através do Plano de Bases.
- c) Estimular a entrada de capital estrangeiro na economia através do Programa de Metas.
- d) Aplicar eficazmente políticas de combate à inflação e diminuição da dívida externa.
- e) Estimular ações de repressão política contra movimentos populares organizados em favor da ideologia comunista.

Questão 35

O movimento das “Diretas-Já”, ocorrido em 1984 e marcado pela intensa mobilização popular, propunha:

- a) O fim das eleições indiretas para todos os cargos do poder legislativo e do judiciário.
- b) A criação imediata de leis anticorrupção com características rigorosas e punitivas.
- c) Eleição direta de Tancredo Neves como primeiro presidente da república após o fim do ciclo de governos militares.
- d) A concessão de liberdade imediata aos presos políticos remanescentes do governo autoritário.
- e) Eleições diretas para o cargo de presidente da república.

GEOGRAFIA

Questão 36

Sobre algumas características do planeta Terra, assinale a alternativa incorreta:

- a) A maior parte da superfície do Planeta Terra é composta por água.
- b) A camada externa do planeta Terra é muito fina e recebe a denominação de crosta terrestre.
- c) A camada externa do planeta Terra é segmentada em um conjunto de placas tectônicas.
- d) O planeta Terra é o sexto do Sistema Solar mais próximo do sol.
- e) O planeta Terra é classificado como um planeta rochoso.



PROCESSO SELETIVO 2018

PROVA OBJETIVA

Questão 37

O fim da Guerra Fria e da bipolaridade (décadas de 1980 e 1990) deu lugar a um mundo marcado:

I. Pela redução drástica de conflitos internacionais e a emergência de um quadro de grande equilíbrio bélico entre as nações.

II. Pelo aumento de conflitos internos associados ao nacionalismo, às disputas étnicas, ao extremismo religioso e ao fortalecimento de ameaças como o terrorismo, o tráfico de drogas e o crime organizado.

III. Pela consolidação dos EUA como única superpotência cujas ações militares passaram a ocorrer em estrita submissão às decisões da ONU.

Sobre as afirmações anteriores:

- a) Apenas I e II são verdadeiras.
- b) Apenas I e III são verdadeiras.
- c) Apenas II e III são verdadeiras.
- d) Apenas a I é verdadeira.
- e) Apenas a II é verdadeira.

Questão 38

Leia:

Sustentável é a sociedade ou o planeta que produz o suficiente para si e para os seres dos ecossistemas onde ela se situa; que toma da natureza somente o que ela pode repor; que mostra um sentido de solidariedade geracional, ao preservar para as sociedades futuras os recursos naturais de que elas precisarão. (BOFF, Leonardo. Saber cuidar: ética do humano – compaixão pela terra. Petrópolis: Vozes, p. 137)

Sobre o texto anterior não é correto afirmar:

- a) Sociedade sustentável é aquela que retira da natureza apenas o que ela pode repor.
- b) Sociedade sustentável é aquela que mostra sentimento de solidariedade entre gerações.
- c) Sociedade sustentável é aquela que produz com eficiência tudo que precisa e ainda acumula excedentes para as gerações futuras.
- d) Sociedade sustentável é aquela que preserva os recursos naturais que serão necessários às sociedades futuras.
- e) Sociedade sustentável é aquela que produz o suficiente para si e para os seres dos ecossistemas.

Questão 39

A intensificação da imigração europeia para o Brasil no final do século XIX está relacionada:

- a) À transformação econômica de áreas tradicionais como o nordeste brasileiro.
- b) Aos problemas decorrentes da crise do sistema escravista no Brasil.
- c) Aos interesses ligados à prática da policultura.
- d) À eliminação do caráter agroexportador da economia brasileira.
- e) À expansão da atividade pecuária no Brasil Central.

Questão 40

Leia as afirmações a seguir:

I. A devastação da Mata Atlântica pode ser explicada em razão de sua localização favorável ao desenvolvimento dos ciclos econômicos e, mais recentemente, pela indústria madeireira.

II. Os prejuízos causados pelo desmatamento da Amazônia preocupam não só em razão dos problemas relacionados à biodiversidade, mas também pelo aumento da grilagem de terras públicas.

III. Embora o Brasil tenha investido na prospecção de petróleo em campos marítimos, grande parte de suas reservas de petróleo encontra-se em terras continentais, como na região amazônica.

Sobre as afirmações anteriores:

- a) Apenas I e II são verdadeiras.
- b) Apenas I e III são verdadeiras.
- c) Apenas II e III são verdadeiras.
- d) Todas são verdadeiras.
- e) Todas são falsas.

ATUALIDADES

Questão 41

Não só pela grande dificuldade de concretização, mas, também, pela grande polêmica gerada, tornou-se conhecida, em âmbito mundial, uma polêmica promessa do então candidato à Presidência dos Estados Unidos, Donald Trump. A vitória nas eleições do atual Presidente estadunidense foi acompanhada pela impossibilidade de conversão, até os dias de hoje, da proposta em realidade. A polêmica promessa de Donald Trump, ainda não concretizada, é:

- a) A aceitação, pela União Europeia, de substituição do EURO pelo Dólar Americano.
- b) A construção de um grande muro divisório na fronteira entre os Estados Unidos e o México.
- c) A construção de um grande muro divisório na fronteira entre os Estados Unidos e o Canadá.
- d) O fechamento da fronteira dos Estados Unidos para todos os estrangeiros.
- e) A abertura da fronteira dos Estados Unidos para todos os estrangeiros.



PROCESSO SELETIVO 2018

PROVA OBJETIVA

Questão 42

Depois do impeachment da Presidente Dilma Rouseff, assumiu a Presidência da República o então Vice-Presidente, Michel Temer, que em pouco tempo viu-se alvo de denúncias graves e correu o risco de ser obrigado a afastar-se do cargo. Caso isso tivesse ocorrido, considerando-se que não havia Vice-Presidente, quem seria, segundo a Legislação, o seu substituto legal?

- a) O Presidente do Superior Tribunal de Justiça.
- b) O Presidente que fosse eleito pelos Senadores e Deputados Federais.
- c) O Presidente da Câmara dos Deputados Federais.
- d) O Presidente do Senado Federal.
- e) O Presidente do Supremo Tribunal Federal.

Questão 43

A imprensa mundial vem propagando os feitos e o curioso comportamento do atual líder supremo da Coreia do Norte, que, com apenas 26 anos de idade e sem grande experiência política e militar, assumiu o lugar de seu falecido pai. A fama do líder coreano envolve seu estilo “mão de ferro” de governo, especialmente pela conduta de carrear grandes recursos do Estado para a área militar, com valorização do desenvolvimento de armas nucleares e ameaças dirigidas para os Estados Unidos da América. O nome do líder coreano, hoje conhecido em nível mundial, é:

- a) Kim Jong-un
- b) Kim Kuang-il
- c) Moon Jae-in
- d) Kim Bas-inger
- e) Imperador Akihito

Questão 44

A cada dia propagam-se informações sobre novidades na rede mundial de computadores – internet –, como, por exemplo, o surgimento de uma nova forma de concretizar transações financeiras sem intermediários e de maneira segura, já que envolve gravação no chamado “blockchain”, banco de dados distribuídos. Esta nova tecnologia, que permite transações financeiras inovadoras e sem intermediários, que foi classificada pelo Tesouro dos Estados Unidos como a primeira moeda digital descentralizada do mundo e que pode ser considerada uma criptomoeda, recebe o nome de:

- a) *rock money*
- b) *littlecoin*
- c) *dbigcoin*
- d) *bitcoin*
- e) *cripto money*

Questão 45

Considere os fatos divulgados pela imprensa em geral, em âmbito nacional e mundial e indique, abaixo, qual é a única alternativa que apresenta o histórico verdadeiro.

- a) O atual Presidente da Venezuela, Hugo Chaves, desde que assumiu o governo, não vem demonstrando equilíbrio governamental e vem desagradando, com seu estilo de governo, que gerou instabilidade no país, não somente significativa parcela do povo venezuelano, mas, também, grande parte da população em geral, em nível mundial.
- b) Não só a internet – rede mundial de comunicação –, mas, também, os atuais aparelhos celulares, têm diminuído sua influência e propagação, em geral, em nível mundial, estimando-se que se trata de meios de comunicação que já atingiram o máximo de nível de ampliação e que tendem a, brevemente, encerrar sua utilização definitivamente.
- c) A HIV – Síndrome de Imunodeficiência Adquirida –, popularmente conhecida como AIDS, é uma grave doença, que atinge o sistema imunológico dos indivíduos, em razão da destruição dos glóbulos brancos, tratando-se de enfermidade para a qual os cientistas encontraram a cura definitiva em 2017.
- d) O atual Presidente estadunidense, Donald Trump, desde que assumiu o governo, vem demonstrando equilíbrio governamental e vem agradando, com seu estilo de governo, não somente significativa parcela do povo americano, mas, também, grande parte da população em geral, em nível mundial.
- e) A Coreia do Norte realizou lançamento de míssil que sobrevoou o território do Japão e autoridades do governo japonês chegaram a emitir alerta para que a população buscasse abrigo imediato.

